

## TROPICKÝ DEŠTNÝ LES

1) Vyber správnou odpoveď:

A. Tropické deštné lesy se rozkládají:

a) v oblasti obratníků	b) v oblasti rovníku	c) v oblasti 60°s.š.
------------------------	----------------------	----------------------

B. Tropické deštné lesy se nenacházejí v:

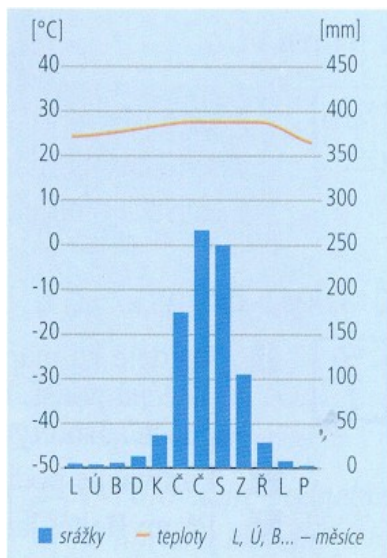
a) v Africe	b) v Evropě	c) v Jižní Americe
-------------	-------------	--------------------

C. Krajina tropického deštného lesa leží:

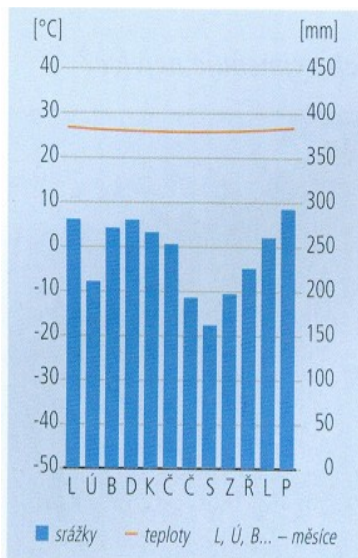
a) v tropickém vlhkém pásu	b) v subtropickém pásu	c) v tropickém suchém pásu
----------------------------	------------------------	----------------------------

2) Vyber graf, na kterém je znázorněn průběh teplot a srážek během roku v krajině tropického deštného lesa:

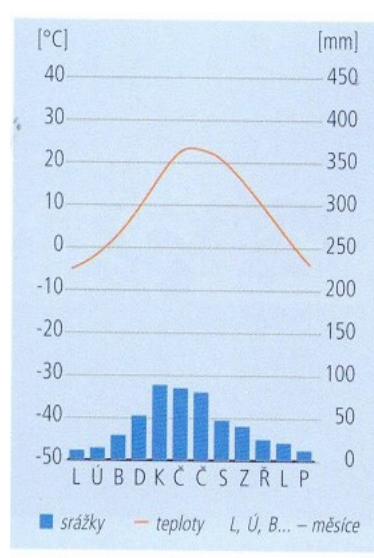
Obr.1



Obr.2




Obr.3



3) Vyber zvířata, která nežijí v tropickém deštném lese:



a)




b)



c)



d)



e)

**4) Vyber pojmy, které charakterizují biot tropického deštného lesa:**

kaučukovník		hodně druhů rostlin a živočichů	
oázy		liány	
vysoké teploty, každodenní deště		černozemě	
střídání čtyř ročních období		hlavní zdroj kyslíku	

**5) Vyber plodiny, které se pěstují na plantážích v tropickém deštném lese:**

kávovník – citrusy – banánovník – pšenice – olivovník – kakaovník – bavlník – brusinky

**6) Jaké následky může zanechat nadměrné kácení tropického deštného lesa?**

Uveď 1 příklad:

.....  
.....

**7) Vyznač v mapě: A) Konžský tropický deštný les**

**B) Amazonský tropický deštný les**

**C) tropické deštné lesy v Indonésii**

